

Имя и фамилия ученика _____

Школа _____ Учитель географии _____

1. 20 августа этого года исполнилось 20 лет восстановленной Эстонской Республике. Ее путь в мировую политику и экономику проходил через ряд этапов. Распредели эти этапы (в списке) по соответствующим им датам:

членство в НАТО; членство в ВТО; членство в ООН; Шенгенский договор; Эстонская крона; вхождение в еврозону; вхождение в Европейский Союз; вывод российских войск из Эстонии. **5 б**

- 17.09.1991: 20.06.1992:
- 31.08.1994: 13.11.1999:
- 02.04.2004: 01.05.2004:
- 21.12.2007: 01.01.2011:

В чем суть Шенгенского договора?

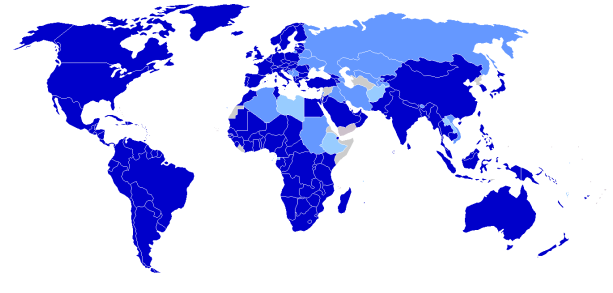
.....

2. Членство в каких организациях, куда входит и Эстония, показано на этих картах? Напиши под каждой картой название организации. **4 б**



.....

.....



.....

.....

3. В какие физико-географические (природные) регионы или зоны входит Эстония, и как это отражается на ее природных условиях? **6 б**

Природный регион	Влияние на природу Эстонии	

4. Обе фотографии сделаны в местности, связанной с именем Алар Сикк и названием Сагарматха.

3 б

Назови регион:

Каковы более распространенные названия Сагарматхи?

Почему ее называют третьим полюсом?

Объясни влияние двух факторов на формирование природных условий этого региона. 4 б



1)

1)

2)

2)

5. Напиши в верхней строке таблицы названия природных зон, и распредели перечисленные термины по природным зонам, для которых они характерны. 8 б

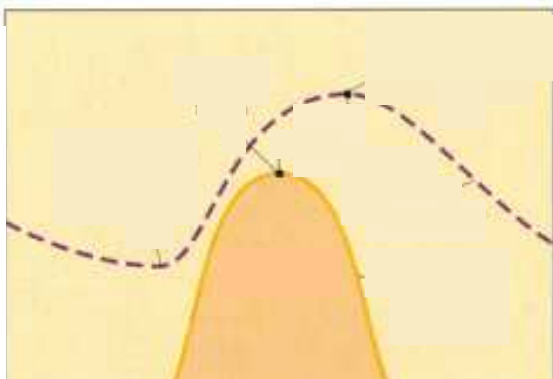
САХЕЛЬ, ТАЙГА, ПОДСЕЧНО-ОГНЕВОЕ ЗЕМЛЕДЕЛИЕ, ОПОДЗОЛИВАНИЕ, ПРЕРИЯ, БАТАТ, ОПУСТЫНИВАНИЕ, КОВБОЙ, ПОЯС ГОЛОДА, ЧЕРНОЗЁМ, ЛИАНА, ВЕЧНАЯ МЕРЗЛОТА.

ПРИРОДНАЯ ЗОНА				
ТЕРМИНЫ				

6. На рисунке показано изменение солнечной радиации и температуры воздуха в течение суток.

5 б

Напиши рядом с условным обозначением название соответствующего показателя.



Какие различия проявляются?


Каковы причины этих различий?

—

.....
.....
.....

.....
.....
.....

7. Какой процесс показан на этой карикатуре? 4 б



Какова причина возникновения этого процесса?
.....
.....

Какие явления сопровождают этот процесс?

- 1)
- 2)
- 3)
- 4)

8. Эстония расположена на Восточно-Европейской платформе. Какие пласты платформы показаны на этих фотографиях? 5 б



На какой из этих картинок показаны коренные породы Финляндии?

На картинке

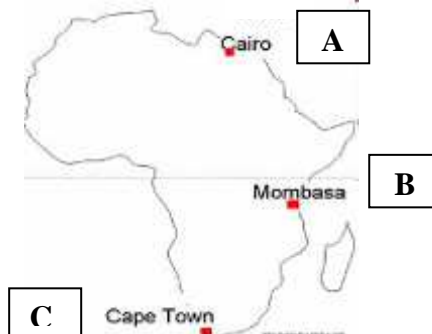
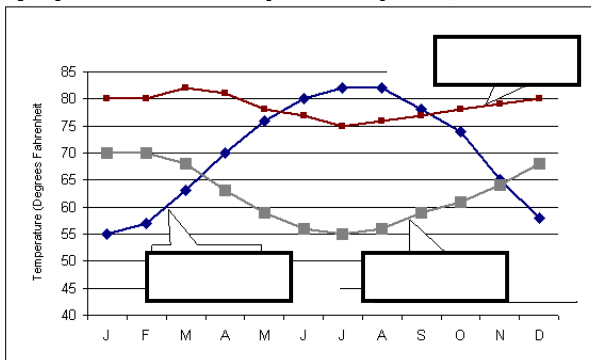
Объясни свое решение:
.....
.....

Под влиянием каких факторов показанные здесь коренные породы Финляндии приобрели такой облик?
.....
.....

9. Что и почему не подходит в перечень? *ВЫРТСЪЯРВ, БОЛОТО МАРИМЕТСА, ВЯЙНАМЕРИ, БРИКСДАЛЬСКИЙ ЛЕДНИК, РЕКА ПЯРНУ, РОДНИК СИНИАЛЛИКАС, СУТЛЕПА МЭРИ*

....., так как 2 б

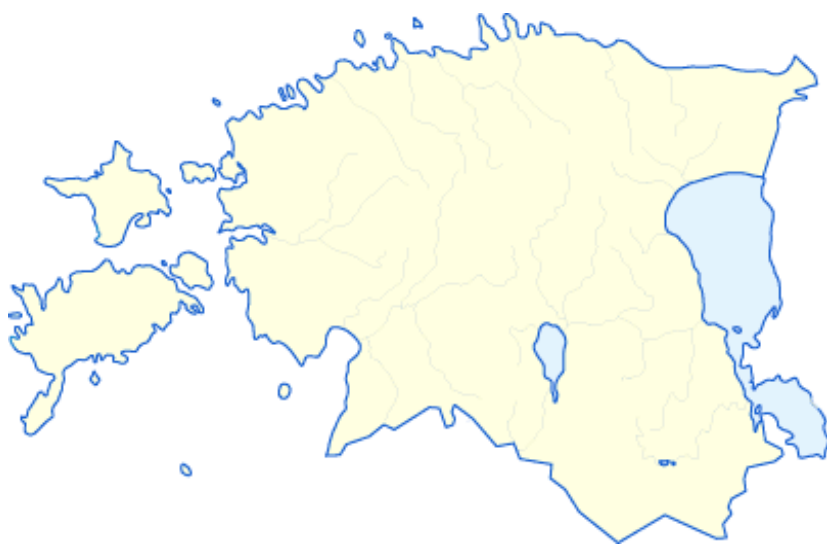
10. Каким точкам на карте Африки соответствуют кривые годовых колебаний температуры? Напиши на графике соответствующие буквы, 4 б



Обоснуй свое решение.

- A -
- B -
- C -

11. Отметь на карте места, где сделаны эти снимки.



2 б



A



B

12. Что показано на снимках слева?
3 б

Какой из них сделан 8 октября?

Объясни:



1



2

13. Какие объекты на этих космических фотографиях?

1:

2:

Чем эти объекты сходны?

2 б

8 б

Чем эти объекты различаются? Объясни причины различий.

Различие	Причина